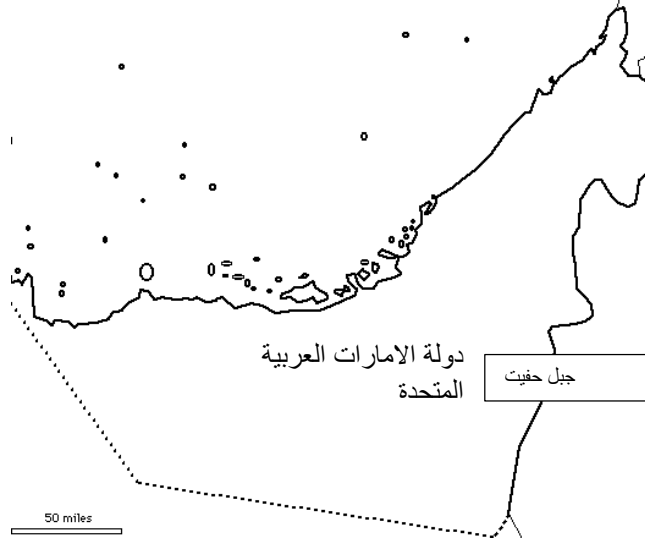


امتحانات مجلس أبوظبي للتعليم - الفصل الدراسي الأول 2016  
امتحان تجريبي - علوم الأرض المستوى 2 - الفصل الدراسي 1

الجزء أ - أسئلة الاختيار من متعدد - درجتان لكل إجابة صحيحة.

(2)

1. أي من هذه المعادن توجد في جبل حفيت؟



- أ. اللازورد; الباريت; التلك  
ب. الكالسيت; الدولوميت; الجبس  
ج. الهاليت; الكروميت; الملاييت  
د. الكروميت; الدولوميت; اللازورد معدن أزرق

(2)

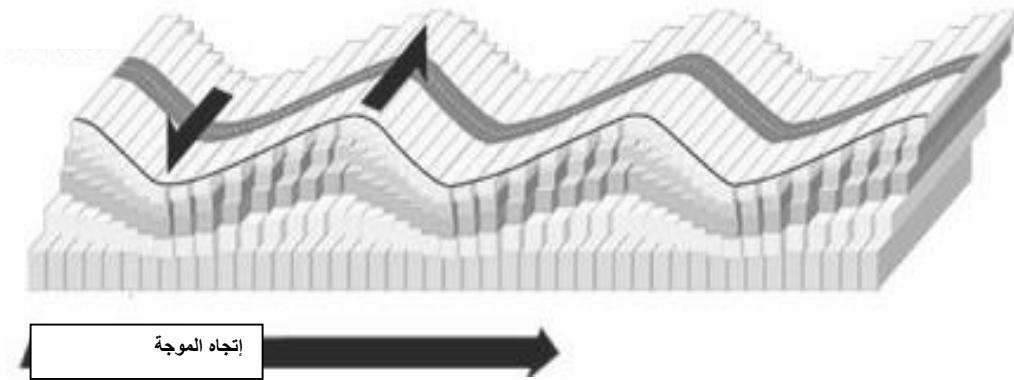
2. ما نوع الإجهاد الذي سبب هذا التشوه في الصخور؟



- أ. الثبات الصخري  
ب. القص  
ج. الشد  
د. الضغط (الإنضغاط)

امتحانات مجلس أبوظبي للتعليم - الفصل الدراسي الأول 2016  
امتحان تجريبي - علوم الأرض المستوى 2 - الفصل الدراسي 1

(2) 3. ما نوع الموجة الزلزالية التي يمثلها الشكل أدناه؟



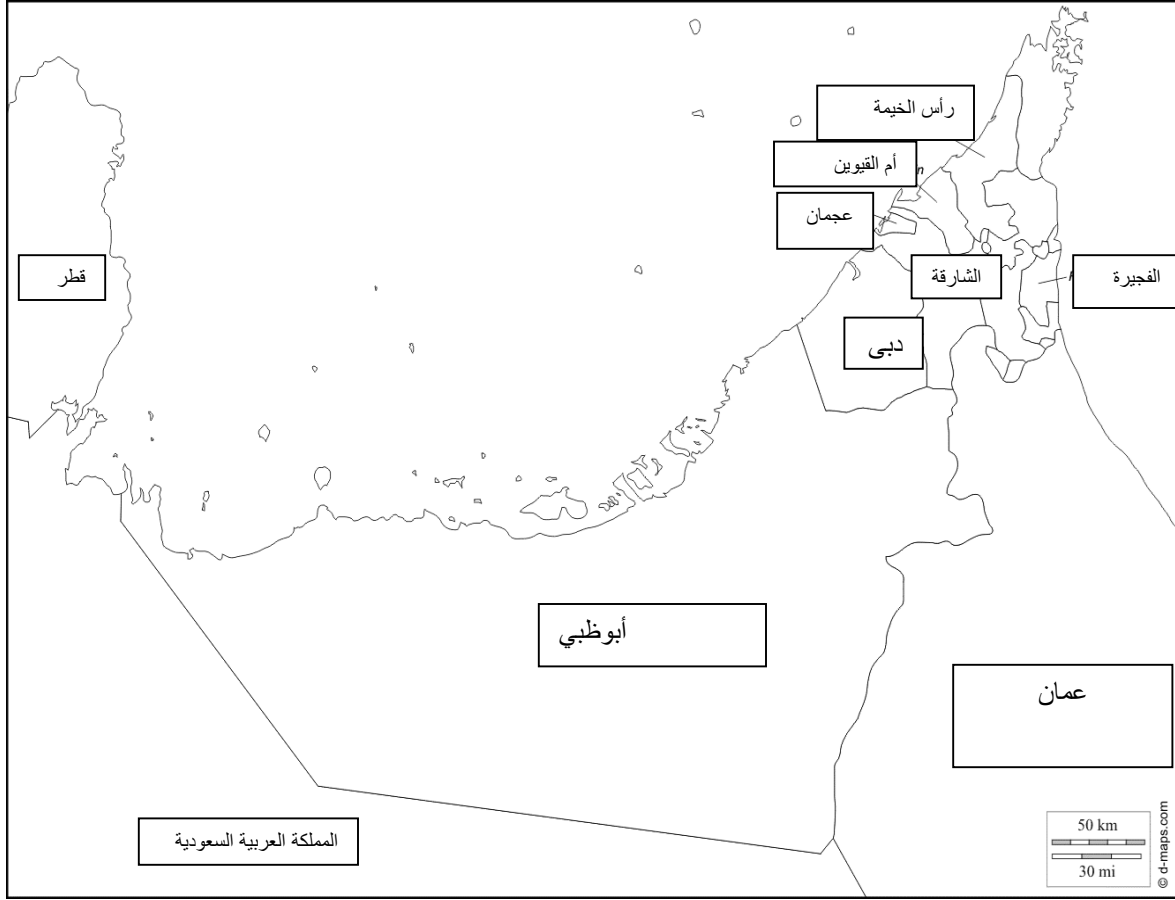
- أ. موجة أولية  
ب. موجة ثانوية  
ج. موجة لاف  
د. موجة رايلي

(4) 4. أكمل الجدول عن طريق كتابة نوع مصيدة النفط ووصف لمصيدة النفط

وصف مصيدة النفط	نوع مصيدة النفط	شكل مصيدة النفط

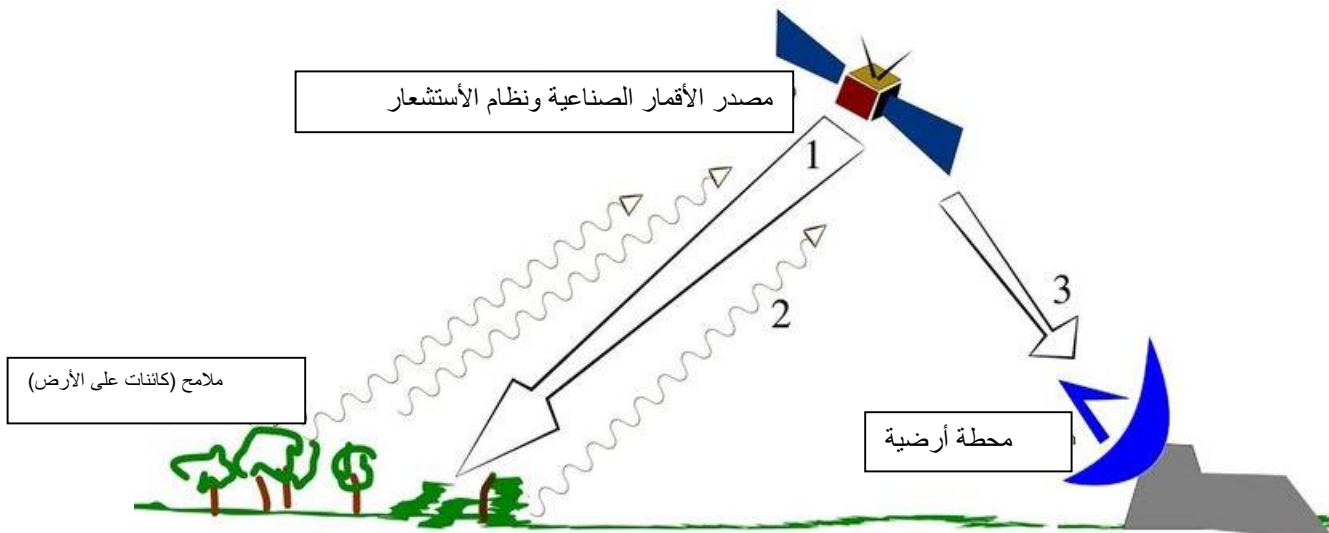
امتحانات مجلس أبوظبي للتعليم - الفصل الدراسي الأول 2016  
امتحان تجريبي - علوم الأرض المستوى 2 - الفصل الدراسي 1

5. ظل على الخريطة ثلاثة مواقع عامة للمصائد النفطية توجد في دولة الإمارات العربية المتحدة.



امتحانات مجلس أبوظبي للتعليم - الفصل الدراسي الأول 2016  
امتحان تجريبي - علوم الأرض المستوى 2 - الفصل الدراسي 1

(1) 6. أ) اكتب نوع الاستشعار عن بعد المُوضح في الشكل أدناه.



(3) ب) اشرح ما يحدث عند كل رقم (1، 2، 3) في رسم الاستشعار عن بعد أعلاه.

1.

\_\_\_\_\_

\_\_\_\_\_

2.

\_\_\_\_\_

\_\_\_\_\_

3.

\_\_\_\_\_

\_\_\_\_\_